

A CASA DO SIMULADO



MINISSIMULADO 146/360
INFORMÁTICA





SIMULADO – 146/360

INFORMÁTICA

INSTRUÇÕES

- TEMPO: 30 MINUTOS
- MODALIDADE: CERTO OU ERRADO
- 30 QUESTÕES



COMPOSIÇÃO DO SIMULADO

- 30 Questões de Informática



DEMAIS SIMULADOS NO LINK
ABAIXO



[CLIQUE AQUI](#)

REDE SOCIAL



[CURTA NOSSA PÁGINA](#)

MATERIAL LIVRE

Este material é **GRATUITO** e **pode ser divulgado e compartilhado**: A Casa do Simulado a autoriza. A venda desse material é proibida!

IMPORTÂNCIA DO TREINO
DIÁRIO


É de conhecimento de todos que fazer questões é um dos melhores métodos de absorção de conteúdo, em contrapartida nem todos podem dispendir tempo para se organizar e realizar questões com a frequência necessária para manutenção dos conceitos. Todo dia haverá um minissimulado novo, se não puderem fazer todos os dias, ao menos no final de semana treine, a equipe da Casa do Simulado deseja a todos bons estudos.

Com relação aos principais componentes, à organização e aos sistemas operacionais dos microcomputadores, julgue os itens que se seguem.




1. O barramento de endereço é unidirecional, ou seja, a informação flui da CPU para a memória ou dispositivos de entrada ou saída, mas jamais em sentido contrário.
2. Em um microcomputador, a referência para a troca de informações é a CPU, desse modo, a operação de escrita ocorre quando a CPU recebe dados de um dispositivo de entrada.
3. Diferentemente do Linux, o Windows permite que o usuário crie sua própria versão de sistema operacional mediante a alteração do código-fonte do programa.
4. Além de servir de plataforma para outros softwares, outra função básica dos sistemas operacionais é gerenciar e controlar o hardware.

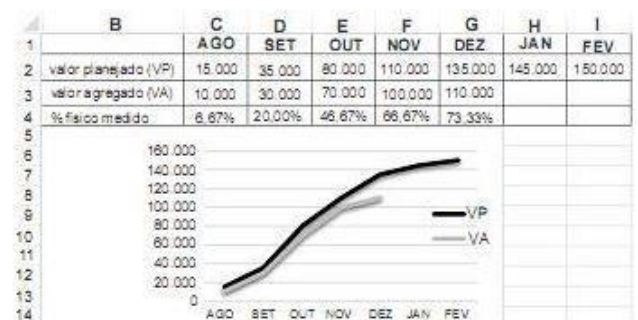
A respeito de softwares básicos e aplicativos, julgue o item subsequente.

5. Ao se clicar o botão validação de dados, constante da faixa de opções do menu dados do Microsoft Excel 2007, o aplicativo fará uma verificação sintática e semântica, de modo automático, do conteúdo existente em alguma célula previamente selecionada, sugerindo a correção de erros de português.



A figura anterior mostra uma janela do Windows 7 exibindo os arquivos contidos na pasta Perito. Com relação a essa figura e ao Windows 7, julgue o item subsequente.

6. O ícone  Edital é um arquivo do editor de texto WordPad.
7. Ao se clicar o ícone , e, em seguida o ícone , serão exibidos dados estatísticos do arquivo, tais como o seu tamanho, em bytes, o autor, e a data da última modificação.



A tabela e o gráfico acima apresentados foram gerados no Excel, tendo sido o gráfico criado a partir dos dados da tabela. Com base nessas informações, julgue o item subsequente.

8. Se a fórmula =G3/\$I\$2 for registrada na célula G4, é correto afirmar que, para se obter os demais valores da linha 4 será suficiente copiar a célula G4 para as células C4; D4; E4 e F4.
9. Se, após a criação do gráfico, houver alteração nas entradas de dados nas linhas 2 e 3, o ajuste das curvas geradas ocorrerá automaticamente.

No que se refere à segurança da informação, julgue os itens subsequentes.

10. Se for configurado corretamente, o Microsoft Security Essentials é um firewall que protege o computador

contra invasões pela rede privada ou pela Internet.

- Um computador que apresenta reinicializações inexplicáveis ou lentidões excessivas no processamento de comandos pode estar infectado com algum malware, como vírus ou spyware.

Com relação ao Microsoft Office e ao BrOffice, julgue os itens que seguem.

- No Microsoft PowerPoint, o slide mestre facilita a criação de apresentações com mais de um estilo e com temas diferentes
- Diferentemente do que ocorre no BrOffice Writer, o uso simultâneo das teclas Ctrl e W em um texto em edição no Microsoft Word, causa o fechamento do arquivo.
- Tanto no Microsoft Excel quanto no BrOffice Calc, o uso da fórmula =média(A1;A20) resulta na média aritmética dos conteúdos numéricos de todas as células entre A1 e A20.

Com relação ao Outlook Express e ao Internet Explorer, julgue os itens a seguir.

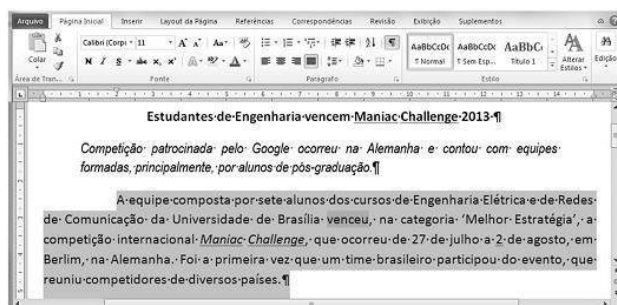
- O navegador Internet Explorer 9 possui quatro zonas de segurança, entre elas a zona sites restritos que define segurança em nível de controle proibitivo a sites que possam danificar o computador ou informações, impedindo-os de executarem programas não permitidos pelo usuário.
- Além de ser um cliente de email, o Outlook Express tem outros recursos como calendários pessoais, agendamento de grupo e gerenciamento de tarefas e de contatos.

Acerca de organização e gerenciamento de informações, julgue o próximo item.


- Em ambiente Linux, o comando mv é utilizado para mover ou renomear um ou mais arquivos e diretórios, o que facilita a organização das informações.

Julgue o próximo item, relativo a sistemas operacionais Windows.

- No Windows 7, diferentemente de versões anteriores, não é possível empregar a ferramenta Restauração do Sistema, pois nessa versão as melhorias corrigiram erros no sistema operacional.



Com base na figura acima, que apresenta um texto em edição no Microsoft Word 2010, julgue o item a seguir.

- Na situação mostrada na figura, ao se clicar o ícone , tanto as formatações de fonte do parágrafo selecionado no texto quanto o realce utilizado na palavra “venceu” serão eliminados.
- Na figura em apreço, o parágrafo selecionado no texto está formatado com recuo de 2 cm na primeira linha, justificação (alinhamento das margens esquerda e direita) e estilo Normal.

Planilha Orçamento Pessoal - 2013					
Contas	(D/C)*	Janeiro	Fevereiro	Março	
		R\$	R\$	R\$	
Salário	C	R\$ 2.000,00	R\$ 2.500,00	R\$ 2.500,00	
Aluguel	D	R\$ 350,00	R\$ 350,00	R\$ 450,00	
Água	D	R\$ 50,00	R\$ 50,00	R\$ 55,00	
Luz	D	R\$ 45,00	R\$ 25,00	R\$ 34,00	
Telefone	D	R\$ 35,00	R\$ 35,00	R\$ 35,00	
Alimentação	D	R\$ 300,00	R\$ 300,00	R\$ 300,00	
Total de despesas		780	760	874	
Receitas - Despesas		1220	1740	1626	

Com relação ao Microsoft Excel 2010 e à figura acima, que apresenta uma planilha em edição nesse software, julgue os itens seguintes.

21. A fórmula =SOMASE(\$B\$4:\$B\$9;"D";C4:C9) pode ser utilizada para se inserir, na célula C11, o total das despesas do mês de janeiro.
22. Para se calcular a média aritmética dos gastos com luz nos meses de janeiro a março, e colocar o resultado na célula F7, é correto e suficiente clicar a célula F7, digitar a fórmula MEDIA(C7:E7) e teclar Enter.
23. Ao se selecionar as células C2 e D2 e, com o mouse, arrastar a alça de preenchimento até a célula H2, os meses de março a junho serão incluídos automaticamente nas células de E2 a H2, respectivamente.
24. O caractere D poderia ter sido inserido simultaneamente nas células de B6 a B9, mediante o seguinte procedimento: selecionar as células de B5 a B9, digitar o caractere D e, em seguida, pressionar a combinação de teclas CTRL e ENTER



Tendo como referência a página eletrônica mostrada na figura acima, julgue o item subsequente a respeito de redes de computadores e segurança da informação.

25. Não é possível conectar o Microsoft Outlook Express no servidor de email do Google, pois esse software e esse servidor são incompatíveis, uma vez que são de empresas concorrentes.
26. Um firewall pode ser configurado para ser um programa de antivírus, pois ajuda a proteger o computador contra um malware.
27. Ao se enviar e receber mensagens via intranet, o acesso a essa intranet será feito por meio de um servidor local conectado a uma rede local WAN e fazendo uso do protocolo TCP/IP.
28. A função InPrivate permite navegar na Web sem deixar vestígios no Internet Explorer e impede que pessoas que usam o mesmo computador vejam quais sítios foram visitados por outras pessoas e o que elas procuraram na Web, mas não impede que o administrador de rede ou um hacker descubram as páginas visitadas.

Com relação aos sistemas de busca e indexação de conteúdo, julgue os próximos itens.

29. No sistema de buscas do Google, pode-se restringir a busca de documentos pertinentes a um domínio DNS específico, como, por exemplo, a busca do sítio: `www.brasil.gov.br` presidente.
30. MySQL, DSpace, PostgreSQL, Joomla e SQL são exemplos de sistemas gerenciadores de bancos de dados.

FOLHA DE RESPOSTAS

ANOTAÇÕES:	Questão	Resposta
	01	
	02	
	03	
	04	
	05	
	06	
	07	
	08	
	09	
	10	
	11	
	12	
	13	
	14	
	15	
	16	
	17	
	18	
	19	
	20	
	21	
	22	
	23	
	24	
	25	
	26	
	27	
	28	
	29	
	30	

GABARITO

Questão	Resposta	ANOTAÇÕES:
01	C	
02	E	
03	E	
04	C	
05	E	
06	E	
07	E	
08	C	
09	C	
10	E	
11	C	
12	C	
13	E	
14	E	
15	C	
16	C	
17	C	
18	E	
19	E	
20	C	
21	C	
22	E	
23	C	
24	C	
25	E	
26	E	
27	E	
28	C	
29	E	
30	E	



COMO TIRAR O MÁXIMO PROVEITO DE UM SIMULADO

1



LUGAR RESERVADO

ESCOLHA UM LUGAR RESERVADO E SILENCIOSO PARA REALIZAR O SIMULADO. SE MORA COM MAIS PESSOAS, AVISE-AS PARA QUE NÃO INCOMODEM DURANTE A REALIZAÇÃO.

3



BEBA ÁGUA

DURANTE A PROVA, MANTENHA-SE SEMPRE HIDRATADO. ESTUDOS COMPROVAM A EFICIÊNCIA ENTRE A ÁGUA E O BOM DESEMPENHO MENTAL.

5



RETA FINAL

A EQUIPE A CASA DO SIMULADO DESEJAMOS A TODOS UMA BOA PROVA!

2



CRONOMETRE

OBSERVE NO EDITAL DO SEU CONCURSO QUAL SERÁ A DURAÇÃO DO CERTAME E FAÇA O SIMULADO NO TEMPO EQUIVALENTE. APRENDA A DISTRIBUIR O TEMPO ENTRE AS QUESTÕES. NÃO DEIXE PARA DESCOBRIR NO DIA DA PROVA QUAIS TIPOS DE QUESTÕES MERECEM MAIS TEMPO DA SUA ATENÇÃO.

4



BALANÇO

DEPOIS DO TÉRMINO DO SIMULADO, CONFIRA O GABARITO, ANALISE QUAIS SÃO SEUS PONTOS FORTES E OS PONTOS FRACOS PARA O DEVIDO AJUSTE NO SEU CRONOGRAMA DE ESTUDOS.

A CASA DO SIMULADO